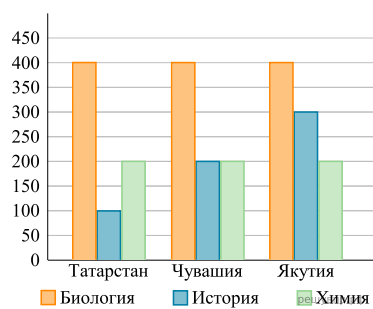
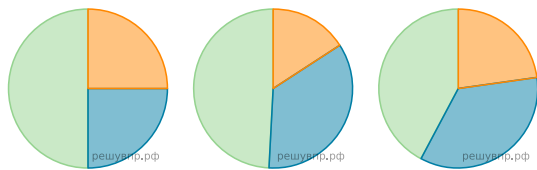


Вариант № 233

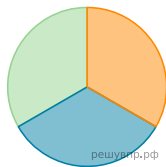
На диаграмме показано количество участников тестирования по предметам в разных регионах России.



- а) Какая из диаграмм правильно отражает соотношение общего количества участников (из всех трех регионов) по каждому из предметов тестирования?
 б) Найдите суммарное число участников тестирования по истории.



1) 2) 3)



4)