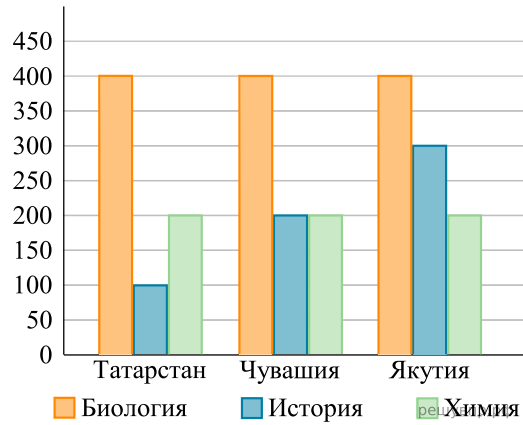
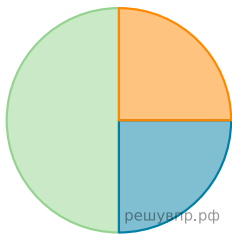


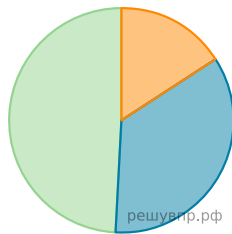
На диаграмме показано количество участников тестирования по предметам в разных регионах России.



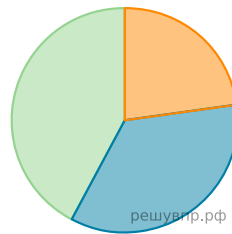
- а) Какая из диаграмм правильно отражает соотношение общего количества участников (из всех трех регионов) по каждому из предметов тестирования?
 б) Найдите суммарное число участников тестирования по истории.



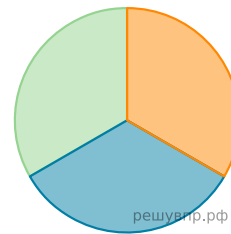
1)



2)



3)



4)

А	Б
<input type="checkbox"/>	<input type="checkbox"/>