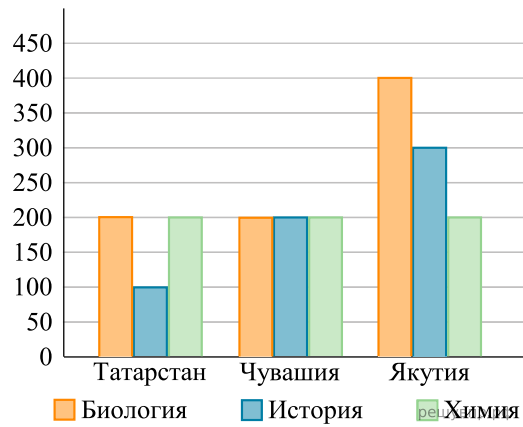
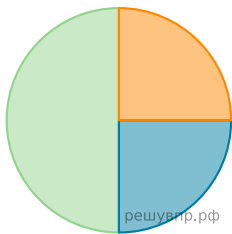


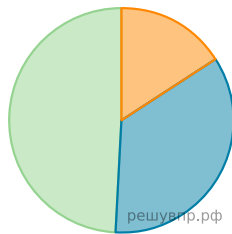
На диаграмме показано количество участников тестирования по предметам в разных регионах России.



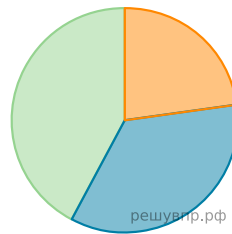
- а) Какая из диаграмм правильно отражает соотношение количества участников тестирования по истории в регионах?
 б) Найдите суммарное количество участников тестирования из Татарстана.



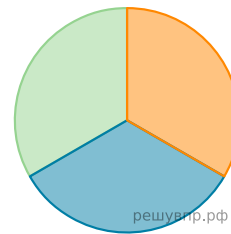
1)



2)



3)



4)

А	Б
<input type="checkbox"/>	<input type="checkbox"/>